

PRUEBAS LIBRES PARA LA OBTENCIÓN DEL TÍTULO DE BACHILLER Convocatoria por Resolución 3/2025, de 26 de febrero (BOR del 7 de marzo), de la Dirección General de Formación Profesional, Consejería de Educación del Gobierno de La Rioja.		Materia:
		GEOGRAFÍA
Nombre y apellidos del aspirante:	Calificación:	
DNI:		
INSTRUCCIONES/OBSERVACIONES: <ul style="list-style-type: none"> - La prueba consta de 3 BLOQUES. - En el BLOQUE 1, sobre Geografía Física se debe elegir (a su libre elección) un ejercicio de entre los dos propuestos. La puntuación máxima del primer bloque es de 4 puntos. - En el BLOQUE 2, sobre Geografía Humana se debe elegir un ejercicio de entre los dos propuestos. La puntuación máxima del segundo bloque es de 4 puntos. - En el BLOQUE 3, se debe dar respuesta al ejercicio planteado. La puntuación máxima de este tercer bloque es de 2 puntos. - Para aprobar la materia deberá obtener al menos cinco puntos entre los tres bloques. - En la valoración general del examen se tendrá en cuenta: <ol style="list-style-type: none"> La presentación (limpieza y orden). La claridad conceptual de las respuestas, así como el uso correcto del vocabulario específico y de los razonamientos expuestos. - La duración máxima del examen es de 75 minutos. 		


BLOQUE I (Geografía Física)

Elija **UNO** de los dos ejercicios planteados:

Ejercicio 1. Responde a las siguientes preguntas sobre el siguiente mapa y las imágenes correspondientes.

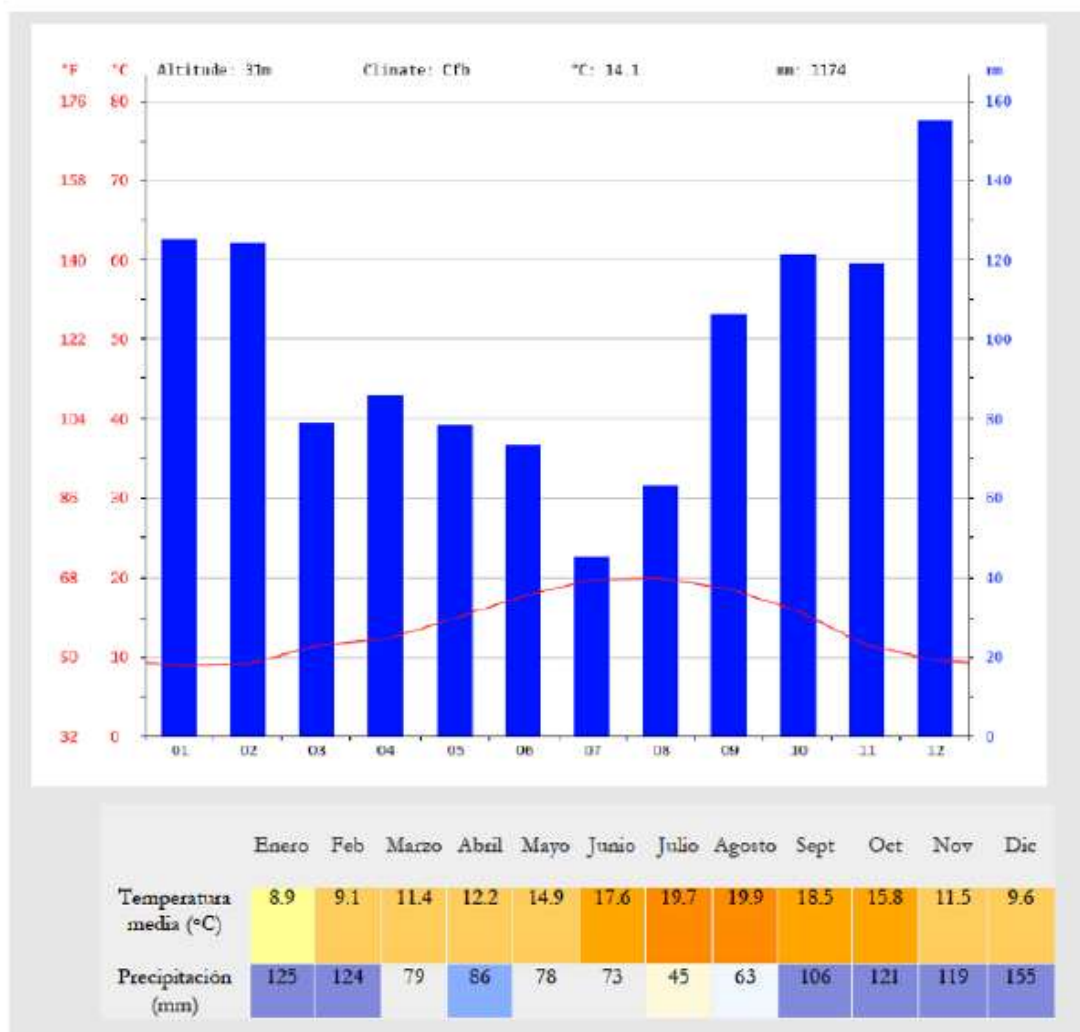
- Identifica los tipos de modelado litológico representados en las cuatro imágenes.
- Localiza las imágenes en la ubicación geográfica correspondiente en el mapa.
- Elige dos de las imágenes y describe, brevemente, las características fundamentales de esos modelados litológicos.





Ejercicio 2. A partir del siguiente climograma:

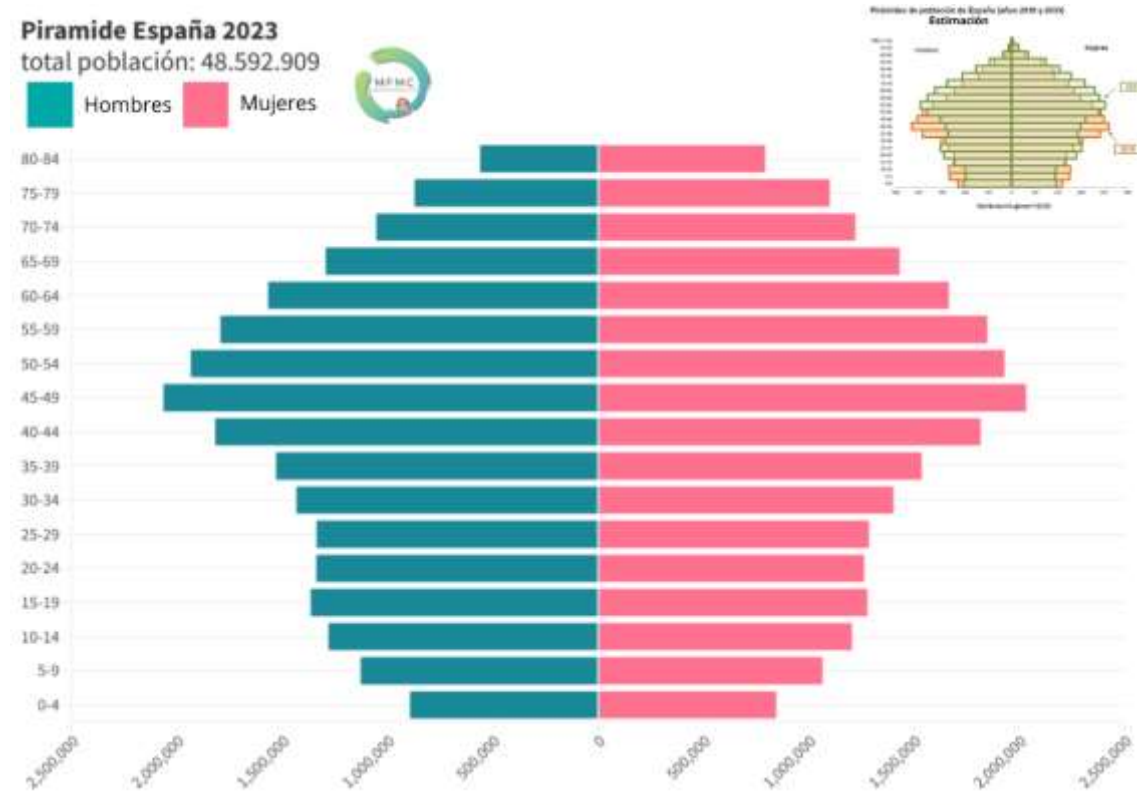
- Identifica el tipo de clima y comenta sus características.
- Explica su localización en España.



BLOQUE II (Geografía Humana)

Elija UNO de los dos ejercicios planteados:

Ejercicio 1. Comenta la siguiente pirámide de población, señalando sus rasgos fundamentales, su evolución y los problemas derivados de la misma, a la vez que proponiendo posibles soluciones.



Ejercicio 2. Comenta la siguiente ortoimagen señalando los principales aspectos de la estructura y funciones urbanas de cada una de sus partes.



BLOQUE III

Contesta a lo que se plantea:

Escribe sobre el mapa las Comunidades Autónomas y su capital, identifica las provincias numeradas en el mapa e indica tres con renta per cápita superior a la media y otras tres cuya renta sea inferior.

